







## ESERCIZI SULLE FUNZIONI COMUNICATIVE DEI MESSAGGI VISIVI

NOME E COGNOME.....

DATA .....CLASSE.....

Prova ad indicare le funzioni prevalenti delle immagini riprodotte nella tabella sottostante

<p>1</p>  <p>MARY CASSATT Mother and Child</p>	<p>1...</p>	 <p>4</p>	<p>4...</p>
<p>2</p> 	<p>2...</p>	 <p>5</p>	<p>5...</p>
<p>3</p> 	<p>3...</p>	 <p>6 15. TOL-COP 1</p>	<p>6...</p>